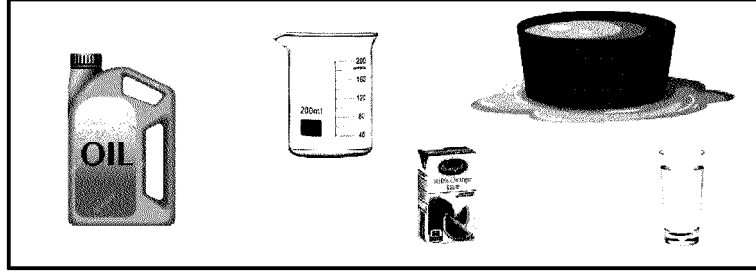


<b>Time: 10 Minutes</b>	<b>Paper Math 2</b>	<b>Total Marks: 10</b>
4th Month, 3rd Week, 4th Day		<b>Syllabus: Ex # 5. Q # 2.</b>

Q.1. Encircle the containers that have capacity in litres. (10)


جو برتن لٹری گنجائش رکھتا ہے اس پر دائرہ لگائیں۔



<b>Time: 10 Minutes</b>	<b>Paper Math 2</b>	<b>Total Marks: 10</b>
4th Month, 3rd Week, 4th Day		<b>Syllabus: Ex # 5. Q # 2.</b>

Q.1. Encircle the containers that have capacity in litres. (10)

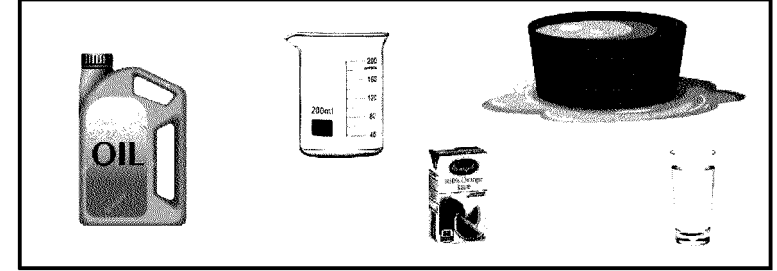
جو برتن لٹری گنجائش رکھتا ہے اس پر دائرہ لگائیں۔



<b>Time: 10 Minutes</b>	<b>Paper Math 2</b>	<b>Total Marks: 10</b>
4th Month, 3rd Week, 4th Day		<b>Syllabus: Ex # 5. Q # 2.</b>

Q.1. Encircle the containers that have capacity in litres. (10)

جو برتن لٹری گنجائش رکھتا ہے اس پر دائرہ لگائیں۔



<b>Time: 10 Minutes</b>	<b>Paper Math 2</b>	<b>Total Marks: 10</b>
4th Month, 3rd Week, 4th Day		<b>Syllabus: Ex # 5. Q # 2.</b>

Q.1. Encircle the containers that have capacity in litres. (10)

جو برتن لٹری گنجائش رکھتا ہے اس پر دائرہ لگائیں۔

